

ПРОБНЕ ЗОВНІШНЄ НЕЗАЛЕЖНЕ ОЦІНЮВАННЯ З ІСТОРІЇ УКРАЇНИ

Час виконання – 150 хвилин

1. Укажіть спільну рису соціально-економічного розвитку українських земель у складі Австро-Угорської та Російської імперій на початку ХХ ст.

- А) подолання селянського безземелля та малоземелля
- Б) початок широкомасштабного залізничного будівництва
- В) скасування особистої залежності селян від поміщиків
- Г) зростання частки іноземного капіталу в промисловості

2. Поява українських парламентських громад у Державній думі Російської імперії пов'язана з

- А) перебігом Першої світової війни
- Б) подіями революції 1905-1907 рр.
- В) завершенням земельної реформи П. Столипіна
- Г) діяльністю Товариства українських поступовців

3. У який період Першої світової війни граф Г. Бобринський мав можливість реалізувати свою обіцянку: «...Галичина і Лемківщина - споконвічно частина єдиної великої Русі... Я буду вводити тут російську мову, закон і устрій...»!

- А) серпень 1914 р. - червень 1915 р.
- Б) серпень 1915 р. - липень 1916 р.
- В) липень 1916 р. - лютий 1917 р.
- Г) березень 1917 р. - квітень 1918 р.

4. У якому Універсалі Української Центральної Ради проголошувалося створення Української Народної Республіки?

- А) Першому
- Б) Другому
- В) Третьому
- Г) Четвертому

5. Перший Всеукраїнський з'їзд рад у Харкові було скликано з метою

- А) створення Донецько-Криворізької радянської республіки
- Б) визнання умов Брест-Литовського мирного договору
- В) проголошення радянської влади в Україні
- Г) схвалення першої радянської конституції

6. Збройна боротьба військ УНР за незалежність України завершилася

- А) боєм під Крутами
- Б) «Чортківською офензивою»
- В) «Київською катастрофою»
- Г) Другим «Зимовим походом»

7. Укажіть один із проявів реалізації в Україні нової економічної політики

- А) ліквідація куркульства як класу
- Б) періодичні хлібозаготівельні кризи
- В) перетворення УРСР на могутню індустріальну республіку
- Г) ліквідація економічних стимулів розвитку виробництва

8. Для культурного життя України в 1921-1928 рр. було характерно

- А) запровадження обов'язкової загальної десятирічної середньої освіти
- Б) згортання антицерковної політики та відмова від атеїстичної пропаганди
- В) згуртування літераторів, художників, театральних діячів у творчі об'єднання
- Г) посилення боротьби з «космополітизмом» та «низькопоклонством перед Заходом»

9. У 1931 р. в УСРР діяло 226 дитячих будинків, у яких перебувало 39 318 дітей. Наприкінці 1933 р. таких будинків було вже 452, у яких перебувало 96 057 дітей. Що спричинило зазначені зміни?

- А) «червоний терор»
- Б) Голодомор
- В) «Великий терор»
- Г) «радянська» Західної України

10. Виправданню агресії СРСР проти якої країни відповідає зміст зображеного плаката?



Напис на плакаті: «Червона армія з честю і славою виконає своє велике визвольне завдання! Хай живе Червона армія!»

- А Польщі
- Б Румунії
- В Угорщини
- Г Чехословаччини

11. Одна з найбільших танкових битв Другої світової війни в районі міст Ровно-Дубно-Броди-Луцьк відбулася в

- А червні 1941 р.
- Б квітні 1942 р.
- В листопаді 1943 р.

Г жовтні 1944 р.

12. Основна боротьба загонів Української повстанської армії в 1942 р. точилася на землях

- А Центральної України.
- Б Південної України.
- В Західної України.
- Г Східної України.

13. Укажіть уривок з історичного джерела, де відображено проблему радянської дійсності кінця 1940-х — початку 1950-х рр., на якій фокусує увагу карикатура?



Написи на карикатурі: «"Невдахи-експериментатори", "Вейсманізм", "Морганізм", "Менделізм"».

А «Не завжди, коли ми показуємо визначного діяча минулого, святкуємо його ювілеї, наголошується на зв'язку минулого з дійсністю, вказується на роль партії і тов. Й. Сталіна...»

Б «Редакція "Вітчизни" не поставила в центрі своєї уваги висвітлення в журналі провідних тем сучасності - перемоги радянського народу у Великій Вітчизняній війні, героїчної боротьби радянських людей за виконання сталінської п'ятирічки...»

В «На Україні завдання наукової розробки історії українського народу покладено на Інститут історії України АН УРСР. Проте... Інститут не розробив науково витриманої, марксистсько-ленінської історії України...»

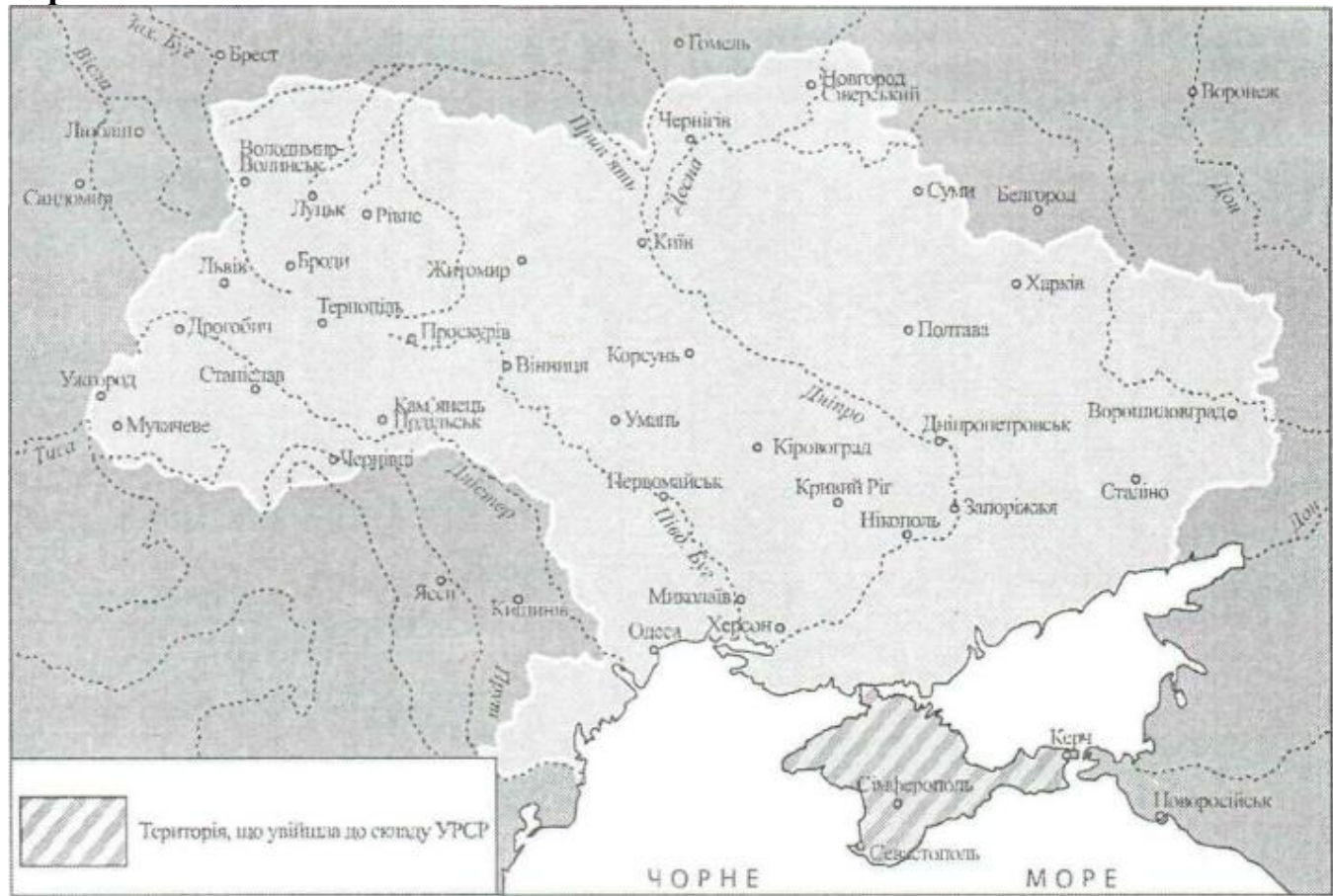
Г «Особи, які відстоюють принципи формальної генетики, неспроможні зрозуміти вказівки Леніна про те, що "пізнання людини не є... пряма лінія, а крива лінія, що безмежно наближується до ряду кіл, до спіралі"...»

14. Що стало причиною явища в історії СРСР та УРСР, відображеного в уривку з історичного джерела:

«...у нас фактично відсутні вартісні відношення, а ціни не грають ролі. Головне - централізований розподіл...»?

- А політико-ідеологічна криза
- Б зовнішньополітична ізоляція
- В командно-адміністративна система
- Г споживацькі настрої в суспільстві

15. У якому році до складу УРСР увійшла територія, заштрихована на картосхемі?



- А 1939 р.
- Б 1940 р.
- В 1945 р.
- Г 1954 р.

16. Які з наведених фактів творчої біографії належать Василю Симоненку?

- А поет, автор збірок «Лебеді материнства», «Земне тяжіння», «самвидавської» сатири «Злодій», «Некролог кукурудзяному качанові»
- Б письменник, громадський діяч, автор трилогії «Прапорonosці», романів «Тронка», «Собор», «Берег любові»
- В публіцист, автор «самвидавської» праці «Лихо з розуму»; головний редактор часопису «Український вісник»
- Г письменник, літературознавець, автор «самвидавської» праці «Інтернаціоналізм чи русифікація?»

Прочитайте фрагмент історичного документа та виконайте завдання 17—20.

«...[організація] ставить за мету:

- 1) Сприяти ознайомленню широких кіл української громадськості з Декларацією Прав Людини.
- 2) ...активно сприяти виконанню гуманітарних статей Заключного Акта Народи з питань безпеки і співпраці в Європі.

3) Домагатися, щоб на всіх міжнародних нарадах... Україна як суверенна європейська держава і член ООН була представлена окремою делегацією.

4) З метою вільного обміну інформацією та ідеями домагатися акредитування на Україні представників зарубіжної преси...»

17. Яка організація ставила перед собою таку мету?

- А Український національний фронт
- Б Українська головна визвольна рада
- В Українська робітничо-селянська спілка
- Г Українська Гельсінська група

18. У якому році створено цю організацію?

- А 1951 р.
- Б 1965 р.
- В 1976 р.
- Г 1989 р.

19. Хто з діячів, зображених на фото, був членом цієї організації?



А)



Б)



В)



Г)

20. Яке явище радянської дійсності слід характеризувати, використовуючи наведений історичний документ?

- А дисидентство
- Б політичну реабілітацію
- В перебудову
- Г відлигу

21. Акція Народного руху України «Українська хвиля» (1990 р.) — утворення «живого ланцюга» від Львова до Києва — присвячувалася

- А прийняттю Верховною Радою УРСР Декларації про державний суверенітет України.
- Б відзначенню річниці проголошення Директорією УНР Універсалу про возз'єднання УНР та ЗУНР.
- В підтримці головних політичних вимог, висунутих учасниками шахтарського страйку.
- Г проведенню перших альтернативних виборів до Верховної Ради УРСР.

22. У якому документі закріплено такі положення:

«Україна є суверенна і незалежна, демократична, соціальна, правова держава. Суверенітет України поширюється на всю її територію. Україна є унітарною державою. Територія України в межах існуючого кордону є цілісною і

недоторканною.»!

А Деклярації прав національностей України

Б Конституції України

В Акті проголошення незалежності України

Г Деклярації про державний суверенітет України


23. Яке фото слід використовувати для ілюстрації подій Революції гідності?



А)



Б)



В)



Г)


24. Установіть відповідність. З'ясуйте, яку посаду обіймав діяч, зображений на фото.



1



2



3



4

А голова Української Центральної Ради

Б головний отаман Армії Української Народної Республіки

В гетьман Української Держави

Г командир Революційної, повстанської армії України

Д митрополит Української греко-католицької церкви

25. Установіть відповідність між подією Другої світової війни в Україні та її наслідком.

1 Київська оборонна операція

2 Битва за Дніпро

3 Корсунь-Шевченківська наступальна операція

4 Карпатсько-Ужгородська наступальна операція

А завершення визволення території УРСР, створення передумов для наступу радянських військ на будапештському напрямку

Б оточення та розгром угруповання німецьких військ, створення передумов для остаточного визволення Правобережної України

В зрив плану блискавичної війни Німеччини проти СРСР, затримка наступу ворога на московському напрямку

Г прорив оборони противника на перекопському й сиваському напрямках, визволення Кримського та Керченського півостровів

Д завершення визволення Лівобережної України та Донбасу, створення сприятливих умов для визволення Правобережної та Південної України

26. Установіть відповідність між подією суспільно-політичного життя другої половини ХХ ст. та роком, коли вона відбулася.

1 проведення польською владою операції «Вісла»

2 утворення Української робітничо-селянської спілки (УРСС)

3 засудження «культу особи» Й. Сталіна на ХХ з'їзді КПРС

4 «саморозпуск» Української греко-католицької церкви (УГКЦ)

А 1946 р.

Б 1947 р.

В 1956 р.

Г 1959 р.

Д 1961 р.

27. Установіть послідовність створення радянських агітаційних плакатів.



Суцільною колективізацією бідняцько-середняцьких господарств ліквідуємо кулацтво як клас.

А)



Нова п'ятирічка – п'ятирічка великого будівництва. Відбудуємо та введемо в дію 5900 підприємств!

Б)



Товарищі селяни! Здавайте хлібний податок! Робітники й Червона Армія ждуть хліба! Податок переможе голод!

В)



Більше хліба для фронту та тилу! Зібрати врожай повністю!

Г)

28. Установіть послідовність подій періоду розпаду Радянського Союзу та відродження незалежності України.

- А вибух на Чорнобильській АЕС
- Б створення Народного руху України за перебудову
- В перші альтернативні вибори до Верховної Ради УРСР
- Г ухвалення Декларації про державний суверенітет України

29. Проаналізуйте зображену картосхему.



Картосхема дає змогу (Виберіть 3 варіанти зі списку відповідей).

1 визначити перебіг подій першої війни радянської Росії проти Української Народної

Республіки (грудень 1917 — лютий 1918 р.).

2 вказати напрямки загального наступу Добровольчої армії генерала А. Денікіна в травні-червні 1919 р.

3 вказати межу просування польських військ під час польсько-радянської війни (квітень-жовтень 1920 р.).

4 показати лінію розмежування військ у Першій світовій війні на момент укладення перемир'я на Східному фронті в грудні 1917 р.

5 окреслити територію ЗУНР відповідно до ухвали Української Національної Ради 19 жовтня 1918 р.

6 визначити кордони Української Народної Республіки згідно з III Універсалом Української Центральної Ради (листопад 1917 р.).

7 визначити радянсько-польський кордон за Ризьким мирним договором у березні 1921 р.

30. Які з цитованих документів створено в період нової економічної політики (1921—1928 рр.)?

1 «...Усіх татар виселити з території Криму та поселити їх на постійне проживання в якості спецпоселенців у районах Узбецької РСР...»

2 «...вважати необхідним, передусім з політичних міркувань, виділення молдавського населення в спеціальну автономну республіку в складі УСРР...»

3 «...Робітничий клас України, у тому числі й російська його частина, аби керувати цим економічним неминучим процесом, повинен зрозуміти свої історичні завдання, й оволодіти українською мовою...»

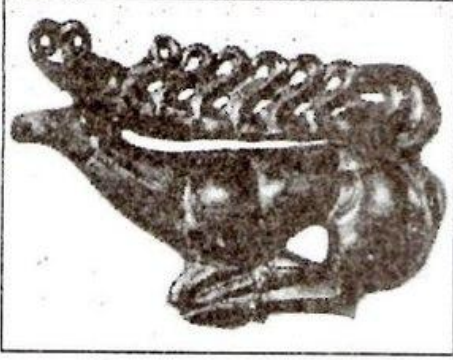
4 «...Я отримав диплом викладача грецької мови. Ураховуючи те, що всі грецькі школи припинили своє існування і навчання здійснювалося російською мовою, мені довелося змінити професію. Я пішов на завод...»

5 «Навчально-виховний процес у закладах освіти України є вільним від втручання політичних партій, громадських, релігійних організацій...»

6 «Оскільки Американська адміністрація, допомоги (АРА) може вирішити за, можливе та бажане надати негайно допомогу, особливо медичну, населенню України, то УСРР ...надасть [адміністрації] пільги...»

7 «Відповідно до Конституції УРСР державною мовою Української Радянської Соціалістичної Республіки є українська мова... Українська РСР створює необхідні умови для розвитку і використання мов інших національностей в республіці...»

31. Що об'єднує витвори мистецтва, зображені на фото?



- А) виконані в «звіриному стилі»
- Б) створені в добу раннього залізного віку
- В) належать майстрам трипільської культури
- Г) представляють мистецтво кочових народів

32. Русь упродовж IX-X ст. перебувала в данницькій залежності від

- А) Золотої Орди
- Б) Великої Скіфії
- В) Аварського каганату
- Г) Хозарського каганату

33. «Більше вже не хочу мститися - хочу тільки взяти з вас невелику данину. Дайте мені від кожного двору по три голуби і по три горобці...», - з такими словами велика княгиня київська Ольга звернулася до

- А) полян
- Б) сіверян
- В) древлян
- Г) волинян

34. За наведеною картосхемою можна схарактеризувати зовнішньополітичну діяльність київських князів

- А) Олега та Ігоря
- Б) Аскольда та Святослава
- В) Володимира Мономаха та Мстислава Великого
- Г) Володимира Великого та Ярослава Мудрого

35. У битві на річці Калка (1223 р.) союзниками руських князів були

- А) хозари
- Б) половці
- В) монголи
- Г) печеніги

36. Що було спільного в правлінні князів Галицько-Волинської держави Романа Мстиславича та Данила Романовича?

- А) приборкання боярської опозиції
- Б) розбудова Галицької митрополії
- В) боротьба з Тевтонським орденом
- Г) створення антимонгольської коаліції

37. Монументальна картина, написана фарбами (водяними або на вапняному молоці) на свіжій вогкій штукатурці, - це

- А) «ікона»
- Б) «фреска»
- В) «мозаїка»
- Г) «мініатюра»

38. Кримське ханство утворилося в

- А) XIII ст.
- Б) XIV ст.
- В) XV ст.
- Г) XVI ст.

39. Яка подія пов'язана з діячем, зображеним на репродукції картини?



- А) створення Луцького Хрестовоздвиженського ставропігійального братства
- Б) заснування першої на українських землях слов'яно-греко-латинської школи
- В) відновлення в Речі Посполитій вищої православної церковної ієрархії
- Г) об'єднання Лаврської школи та Київської братської школи в колегію

40. Прочитайте уривок з історичного джерела про козацькі повстання 1620-х - 1630-х рр. та виконайте завдання. «Одразу ж після смерті Сагайдачного... [шляхтичі] починали чимдуж церкву православну до унії привертати, а на своїх підданих повинності накладати та різними поборами притісняти...». Автор документа вказав на

- А) причини повстань
- Б) наслідки повстань
- В) значення повстань
- Г) рушійні сили повстань

41. Першу перемогу в Національно-визвольній війні українського народу проти Речі Посполитої середини XVII ст. козацьке військо здобуло під

- А) Батогом
- Б) Корсунем
- В) Пилявцями
- Г) Жовтими Водами

42. Послу якої держави Б. Хмельницький дорікав: «...Я прийняв підданство не




для того, щоб робити те, що скажеш... Я з польським королем перед тим бився, щоб вернути свободу собі й козакам...»!

- А) Трансільванського князівства
- Б) Шведського королівства
- В) Московського царства
- Г) Кримського ханства

43. Хто з гетьманів кинув клич: «Хто хоче в мою компанію?», що став підставою для створення нових (компанійських) регулярних козацьких підрозділів?

- А) І. Виговський
- Б) І. Брюховецький
- В) П. Дорошенко
- Г) Д. Многогрішний

44. Який храм, із зображених на фото, використовувався в XVII ст. як фортифікаційна споруда?



- А
- Б
- В
- Г

45. Який орган здійснював управління Гетьманщиною в період між гетьмануванням Данила Апостола та Кирила Розумовського?

- А) Малоросійський приказ
- Б) Перша Малоросійська колегія
- В) Друга Малоросійська колегія
- Г) Правління гетьманського уряду

46. Хто з гетьманів виступив перед своїми прихильниками з такою промовою: «...час освідчитися вам, що я вибрав для народу свого і самих вас... Договори... я

уложив з королем шведським... І ми тепер уважати повинні шведів за своїх союзників, добродіїв і немовби од Бога посланих, щоб звільнити нас від рабства та поновити на найвищому ступені наші свободи й вольності...»?

- А) Д. Апостол
- Б) К. Розумовський
- В) І. Самойлович
- Г) І. Мазепа


47. Нова (Підпільненська) Січ відіграла важливу роль у російсько-турецьких війнах

- А) XVI ст.
- Б) XVII ст.
- В) XVIII ст.
- Г) XIX ст.

48. Повстання Чернігівського полку пов'язано з діяльністю

- А) Малоросійського товариства
- Б) Товариства об'єднаних слов'ян
- В) Кирило-Мефодіївського братств
- Г) «Південного товариства» декабристів

49. Хто є автором офортів, репродукції яких наведено?



- А) М. Пимоненко
- Б) Т. Шевченко
- В) В. Тропінін
- Г) І. Репін

50. Який фактор сприяв перетворенню греко-католицького духовенства в рушійну силу національного відродження на західноукраїнських землях наприкінці XVIII - на початку XIX ст.?

- А) збереження священиками етнічної ідентичності
- Б) наявність власної впливової політичної організації
- В) тісна співпраця з Російською православною церквою
- Г) зосередження у власності церкви більшості орних земель

51. Прочитайте уривок з історичного джерела та виконайте завдання. «Єдина справа певних друзів народу під цю пору - це допомагати розвиткові народному, не висуваючи чи то політичних, чи то соціальних гасел. ..А щоб дійти цієї мети, людям треба насамперед завчасно й старанно вивчити побут, моральні підвалини, умови життя народного, його світогляд і сподівання...». Цитований документ відображає засади діяльності

- А) Київської громади
- Б) Братства тарасівців

- В) Головної Руської Ради
Г) Товариства українських поступовців

52. Про кого І. Франко сказав: «...Він був одним із батьків новочасного українського театру, визначним артистом та при тім великим драматургом, якому рівного не має наша література...»?

- А) І. Карпенка-Карого
Б) І. Нечуя-Левицького
В) Г. Квітку-Основ'яненка
Г) С. Гулака-Артемівського

53. Критику представників якої течії в українському суспільно-політичному русі другої половини ХІХ ст. наведено в уривку з історичного джерела: «Давно вони вже відвернулися від тої живої Русі, що говорила, співала, страждала..., а знайшли другу, мертву, той кам'яний істукан - Русь, що виписана була в документах!...»?

- А) радикалів
Б) народовців
В) громадівців
Г) москвофілів

54. Установіть державну приналежність українських земель на кінець ХV ст.

- | | | | |
|---|------------------------------|---|------------------------------|
| 1 | Буковина | А | Велике князівство Московське |
| 2 | Східне Закарпаття | Б | Молдавське князівство |
| 3 | Галичина,
Західне Поділля | В | Угорське королівство |
| 4 | Київщина,
Східне Поділля | Г | Велике князівство Литовське |
| | | Д | Польське королівство |

55. Установіть відповідність між подією та іменем гетьмана, який був до неї причетний.

- | | | | |
|---|---|---|-----------------|
| 1 | похід польських військ на чолі з королем Яном ІІ Казимиром на Лівобережну Україну | А | І. Виговський |
| 2 | розгром московських військ під Конотопом | Б | І. Самойлович |
| 3 | Чигиринські походи турецько-татарських військ | В | І. Брюховецький |
| 4 | придушення повстання під проводом С. Палія | Г | І. Мазепа |
| | | Д | Д. Многогрішний |

56. Установіть відповідність між назвою документа та його змістом.

- | | | | |
|---|--|---|---|
| 1 | «Маніфест...» імператора Олександра II (19 лютого 1861 р.) | А | «...не допустити ввезення в межі імперії без окремого на те дозволу... будь-яких книг і брошур, що видаються за кордоном малоросійською говіркою; ...припинити видання газети "Киевский телеграф"...» |
| 2 | Циркуляр міністра внутрішніх справ П. Валуєва (1863 р.) | Б | «Божою милістю Ми... оголошуємо, що кріпосні люди отримують повні права вільних сільських обивателів...» |
| 3 | Емський указ імператора Олександра II (1876 р.) | В | «...Видання книг малоросійською мовою як духовного змісту, так і навчальних, і взагалі для першопочаткового читання народу, припинити...» |
| 4 | «Маніфест...» імператора Миколи II (17 жовтня 1905 р.) | Г | «За всяке непідкорення панам, хоч і без явного повстання... кріпаки піддаються покаранню різками від двадцяти до п'ятидесяти ударів...» |
| | | Д | «До обов'язків уряду Ми віднесли виконання непохитної Нашої волі: дарувати населенню непорушні основи громадянської свободи совісті, слова, зібрань і союзів...» |

57. Установіть послідовність подій, описаних в уривках з історичних джерел.

- А «Відтепер з'єднаймося в одне серце і обережімо Руську землю. Кожен хай держить отчину свою: Святополк – Київ, Ізяславів [уділ], Володимир – Всеволодів [уділ]; Давид, Олег і Ярослав – Святославів [уділ]...»
- Б «І за цим священним правилом... єпископи поставили Іларіона, русина, митрополитом Києва і всієї землі Руської...»
- В «Прийшли іноплеменники на Руську землю, половці многі. А Ізяслав, і Святослав, і Всеволод вийшли супроти них на [річку] Альту. ...І сталася битва, і побігли руські князі, і перемогли половці...»
- Г «Прийняв же Данило [королівський] вінець у місті Дорогичині, коли він ішов на війну [проти ятвягів] із сином Львом і з Сомовитом, князем лядським...»

58. Установіть послідовність укладення міжнародних угод XVII ст.

- А Бахчисарайський договір між Московським царством та Османською імперією й Кримським ханством
- Б Андрусівський договір між Річчю Посполитою та Московським царством
- В «Вічний мир» між Московським царством та Річчю Посполитою
- Г «Березневі статті» між Військом Запорозьким і Московським царством

59. Серед яких релігій (за літописною легендою) великий князь київський Володимир Великий вибирав, здійснюючи в 988 р. релігійну реформу?

- 1 християнства
- 2 іудаїзму
- 3 ісламу
- 4 буддизму
- 5 індуїзму
- 6 даосизму
- 7 конфуціанства

60. Укажіть риси, характерні для економічного розвитку Наддніпрянської України в другій половині XIX ст.

- 1 витіснення іноземного капіталу з провідних галузей промисловості
- 2 домінування селянського господарства в товарному виробництві хліба
- 3 завершення промислового перевороту, початок монополізації
- 4 дефіцит робочої сили в сільськогосподарському виробництві
- 5 бурхливий розвиток вуглевидобувної, гірничорудної та металургійної галузей
- 6 будівництво розгалуженої системи залізниць
- 7 розквіт чумацького промислу

Відповіді

1. Г
2. Б
3. А
4. В
5. В
6. Г
7. Б
8. В
9. Б
10.А
11.А
12.В
13.Г
14.В
15.Г
16.А
17.Г
18.В
19.Б
20.А
21.Б
22.Б
23.В
24. (1д,2б,3а,4в)
25. (1в,2д,3б,4а)
26. (1б,2г,3в,4а)
27. (В,А,Г,Б)
28. (А,Б,В,Г)
29. 1,4,6
30. 2,3,6
31.Б
32.Г
33.В
34.Г
35.Б
36.А
37.Б
38.В
39.Б
40.А
41.Г
42.В
43.Г
44.А

45.Г
46.Г
47.В
48.Г
49.Б
50.А
51.А
52.А
53.Г
54. (1б,2в,3д,4г)
55. (1в,2а,3б,4г)
56. (1б, 2в,3а,4д)
57. (Б,В,А,Г)
58. (Г,Б,А,В)
59. 1,2,3
60. 3,5,6